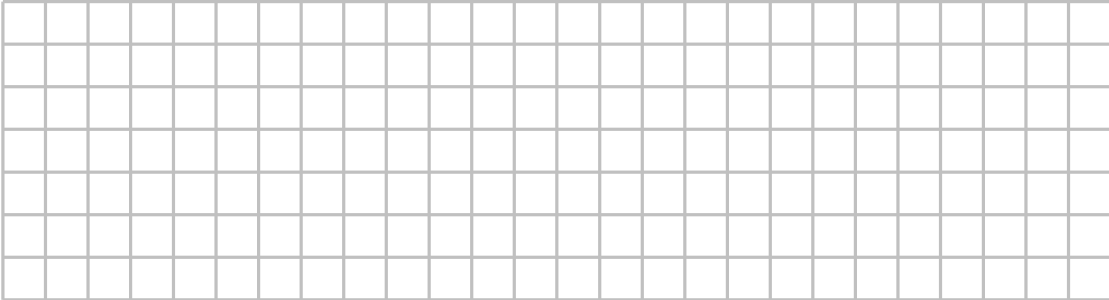




T	H	Z	E
	●●●●● ●●	●●●	●●●●●
	●●	●	●




T	H	Z	E
	●●●●●	●●●●● ●●	●
	●	●●	●●




T	H	Z	E
	●●	●●●●● ●●	●●●●● ●
	●●●●●	●●	●●●




Zt	T	H	Z	E
	●●●●●	●●	●●●	●●
	●	●	●●	●





Zt	T	H	Z	E
	●●●●	●●●	●●●●●	●
	●●●	●●●	●●	●






Zt	T	H	Z	E
	●●●	●●●●●	●●●●●	●●
	●	●●●	●	●







AB: 2 Ht

- 1.  Finde die Zahlen unter dem Tintenlecks.
- 2.  Schreibe die Aufgaben auf und addiere schriftlich oder im Kopf.

Beispielaufgabe:

Ht	Zt	T	H	Z	E
	2	5		2	3
		4	3	1	
	7	9	8	3	8

$$\begin{array}{r} 25523 \\ + 54315 \\ \hline 79838 \end{array}$$

Ht	Zt	T	H	Z	E
		3	5		5
	2		3	5	4
	8	3	8	7	



AB: 2 T

1.  Bilde aus den Zahlen Additionsaufgaben.

342

257

631

102

342

231

311

243

Beispielaufgabe:

	T	H	Z	E
		3	4	2
+		2	5	7
		5	9	9

	T	H	Z	E
+				

	T	H	Z	E
+				

	T	H	Z	E
+				

	T	H	Z	E
+				

	T	H	Z	E
+				

	T	H	Z	E
+				

	T	H	Z	E
+				

	T	H	Z	E
+				

AB: 2 Zt

1.  Bilde aus den Zahlen Additionsaufgaben

1232

5426

6699

2867

Beispielaufgabe:

	Zt	T	H	Z	E
		1	2	3	2
+		5	4	2	6
		6	6	5	8

		T	H	Z	E
+					

	Zt	T	H	Z	E
+					

	Zt	T	H	Z	E
+					

	Zt	T	H	Z	E
+					

	Zt	T	H	Z	E
+					

→

1099

5600

2000

3151

6399

Zt	T	H	Z	E

Zt	T	H	Z	E

Zt	T	H	Z	E

Zt	T	H	Z	E

Zt	T	H	Z	E

Zt	T	H	Z	E

Zt	T	H	Z	E

Zt	T	H	Z	E

11 100


55 400

20 000



33 275

66 050

88 099



AB: 3Zt

- 1.  Fülle die Tabelle aus.
- 2.  Schreibe die Aufgaben auf und addiere.

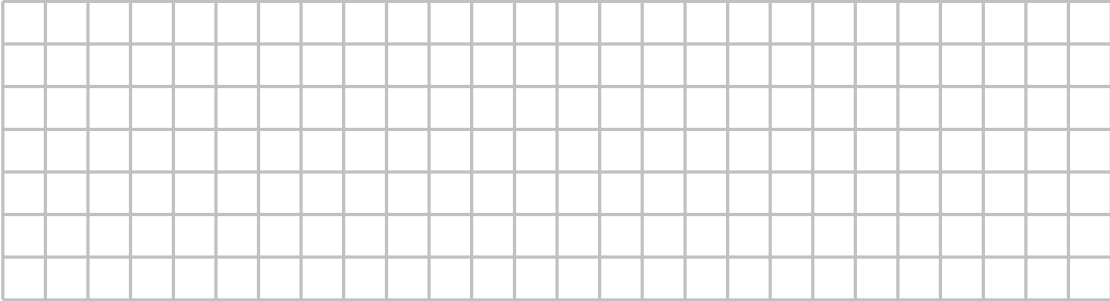
Beispielaufgabe:

Zt	T	H	Z	E
	●●●●●		●●●●	●●●
	●●		●●	●
	7	0	6	4


$$\begin{array}{r}
 5043 \\
 + 2021 \\
 \hline
 7064
 \end{array}$$

Zt	T	H	Z	E
	●●●●	●●●●●●●		●●●●
	●●	●●●●		●


Ht	Zt	T	H	Z	E
●	●●●●●	●●		●●●●●	●●●
●	●●			●●	●



Ht	Zt	T	H	Z	E
●		●●●●●	●●		
	●●●●● ●		●●●●● ●●	●●●●●	●



Ht	Zt	T	H	Z	E
●	●●●●●	●●●	●●●●●		●●●
	●●	●●	●●●		●



AB: 4T

1.  Addiere schriftlich.

Beispielaufgabe:

	T	H	Z	E
		4	7	3
+		4	1	4
<hr/>				
		8	8	7

	T	H	Z	E
		9	7	1
+			2	6
<hr/>				
		9	9	7

	T	H	Z	E
			3	2
+		5	0	1
<hr/>				
		5	3	3

	T	H	Z	E
		2	2	2
+		5	3	4
<hr/>				

	T	H	Z	E
		1	2	3
+		4	5	6
<hr/>				

	T	H	Z	E
		7	8	1
+		2	1	0
<hr/>				

	T	H	Z	E
		5	4	3
+			1	2
<hr/>				

	T	H	Z	E
			6	5
+		7	2	4
<hr/>				

	T	H	Z	E
		3	8	1
+		1	0	1
<hr/>				

AB: 5T

1.



Addiere schriftlich.

Beispielaufgabe:

	T	H	Z	E
		2	7	3
+		4	1	4
		6	8	7

	T	H	Z	E
		5	7	1
+			2	6
		5	9	7

	T	H	Z	E
			3	2
+		3	0	1
		3	3	3

	T	H	Z	E
		2	1	2
+		5	6	5

	T	H	Z	E
		1	2	3
+		6	3	3

	T	H	Z	E
		7	2	1
+		1	8	0

	T	H	Z	E
		5	4	0
+		2	1	2

	T	H	Z	E
		3	6	5
+		3	2	1

	T	H	Z	E
		6	2	1
+		1	0	5

AB: 4Zt

1.  Addiere schriftlich.

Beispielaufgaben:

Zt	T	H	Z	E
	8	1	3	5
+	1	4	2	5
			1	
	9	5	6	0

	T	H	Z	E
	2	2	0	3
+	1	8	5	1
	1			
	3	0	5	4

Zt	T	H	Z	E
	1	2	3	4
+	5	6	7	8

Zt	T	H	Z	E
	9	0	4	5
+	1	3	0	2

Zt	T	H	Z	E
	1	5	4	1
+	3	2	4	5

Zt	T	H	Z	E
	5	8	0	3
+	4	1	1	0

Zt	T	H	Z	E
	5	8	0	3
+	3	1	1	0

Zt	T	H	Z	E
	5	8	0	3
+	3	2	1	0

Beispielaufgaben:

	Zt	T	H	Z	E
		5	3	0	1
+			2	6	9
<hr/>					
			1		
<hr/>					
		5	5	7	0

	Zt	T	H	Z	E
			6	4	2
+		1	5	9	3
<hr/>					
		1	1		
<hr/>					
		2	2	3	5

	Zt	T	H	Z	E
		1	0	2	0
+			3	0	8
<hr/>					
<hr/>					

	Zt	T	H	Z	E
			5	6	7
+		4	8	9	0
<hr/>					
<hr/>					

	Zt	T	H	Z	E
		9	2	1	3
+			3	8	6
<hr/>					
<hr/>					

	Zt	T	H	Z	E
		4	8	2	3
+		4	1	1	0
<hr/>					
<hr/>					

	Zt	T	H	Z	E
		3	6	7	8
+			2	5	6
<hr/>					
<hr/>					

	Zt	T	H	Z	E
		6	3	5	2
+		6	3	4	9
<hr/>					
<hr/>					



Beispielaufgaben:

	Ht	Zt	T	H	Z	E
		2	3	2	4	2
+		2	5	2	6	2
				1		
		4	8	5	0	4

	Ht	Zt	T	H	Z	E
		3	5	8	0	6
+		1	1	3	0	4
			1		1	
		4	7	1	1	0

	Ht	Zt	T	H	Z	E
		1	5	2	4	3
+		2	4	5	2	6

	Ht	Zt	T	H	Z	E
		2	6	7	1	0
+		3	3	2	0	4

	Ht	Zt	T	H	Z	E
		1	2	0	2	0
+		5	9	6	8	1

	Ht	Zt	T	H	Z	E
		3	7	9	4	0
+		1	3	2	6	0

	Ht	Zt	T	H	Z	E
		8	1	0	0	6
+		1	5	8	3	5

	Ht	Zt	T	H	Z	E
		1	2	3	4	5
+		6	7	8	9	9

AB: 5Ht



1. Addiere schriftlich.

Beispielaufgaben:

	Ht	Zt	T	H	Z	E
			3	2	4	2
+		2	5	2	6	2
				1		
		2	8	5	0	4

	Ht	Zt	T	H	Z	E
		3	5	8	0	6
+			1	3	0	4
			1		1	
		3	7	1	1	0

	Ht	Zt	T	H	Z	E
				2	4	3
+		2	4	5	2	6

	Ht	Zt	T	H	Z	E
		2	6	7	1	0
+				2	0	4



	Ht	Zt	T	H	Z	E
		1	2	0	2	0
+					8	1

	Ht	Zt	T	H	Z	E
					4	0
+		1	3	2	6	0

	Ht	Zt	T	H	Z	E
			1	0	0	6
+		1	5	8	3	5

	Ht	Zt	T	H	Z	E
			2	3	4	5
+		6	7	8	0	9

AB: 6T


1.  **Schreibe die Aufgaben untereinander.**
2.  **Addiere schriftlich.**

Beispielaufgabe:

367 + 632

$$\begin{array}{r} 367 \\ + 632 \\ \hline 999 \end{array}$$

124 + 245	317 + 322	132 + 617	116 + 423
215 + 453	241 + 441	721 + 171	426 + 271
621 + 263	490 + 309	283 + 612	674 + 225



AB: 6 Zt

1. 
2. 

Schreibe die Aufgaben untereinander.


Addiere schriftlich.

Beispielaufgabe:


$1367 + 2633$

$$\begin{array}{r} 1367 \\ + 2633 \\ \hline 4000 \end{array}$$

$5924 + 4245$	$2817 + 3322$	$4133 + 5617$	$6116 + 3425$
$4255 + 5453$	$6261 + 2441$	$7791 + 1171$	$5456 + 3271$
$4621 + 2269$	$6890 + 3309$	$5289 + 4612$	$8874 + 1225$



AB: 6Ht

1. **Addiere schriftlich oder im Kopf.**
2.  **Schreibe die Aufgaben je nach Auswahl des Rechenverfahrens auf.**

Beispielaufgaben:

$$11\,400 + 22\,600$$

$$\begin{array}{r} 11400 \\ + 22600 \\ \hline 34000 \end{array}$$

$55\,125 + 44\,375$

$22\,000 + 33\,000$

$44\,532 + 53\,617$

$47\,215 + 53\,453$


$61\,250 + 24\,250$

$71\,781 + 18\,171$



$42\,621 + 21\,663$

$65\,500 + 30\,500$

$54\,289 + 41\,619$




AB: 7 T

1.  **Schreibe die Aufgaben untereinander.**
2.  **Addiere schriftlich.**

$367 + 642$	$419 + 391$	$617 + 392$	$356 + 652$
-------------	-------------	-------------	-------------

$$\begin{array}{r} 367 \\ + 642 \\ \hline 1009 \end{array}$$

$164 + 245$	$387 + 322$	$133 + 617$	$116 + 425$
$255 + 453$	$241 + 481$	$721 + 179$	$426 + 291$
$621 + 283$	$499 + 309$	$283 + 632$	$674 + 255$



AB: 7Ht

1.



Schreibe die Aufgaben untereinander.

2.




Addiere schriftlich.

Beispielaufgaben:




$$11\ 367 + 2\ 633$$

$$\begin{array}{r} 11367 \\ + \underline{2633} \\ \hline 14000 \end{array}$$

55 125 + 4 245	2 317 + 33 392	44 532 + 617
215 + 53 453	61 249 + 3 443	71 781 + 171
42 621 + 63	3 490 + 39 309	54 289 + 619



AB: 8T

1.  Würfeln mit 3 Würfeln.
2.  Trage die Zahlen ein.
3.  Addiere schriftlich.

Beispielaufgabe:



	T	H	Z	E
		1	4	3
+		3	1	1
<hr/>				
		4	5	4

	T	H	Z	E
+				
<hr/>				

	T	H	Z	E
+				
<hr/>				




	T	H	Z	E
+				
<hr/>				

	T	H	Z	E
+				
<hr/>				

	T	H	Z	E
+				
<hr/>				

	T	H	Z	E
+				
<hr/>				

AB: 8Zt

1.  Würfeln mit 4 Würfeln.
2.  Trage die Zahlen ein.
3.  Addiere schriftlich.

Beispielaufgabe:



	Zt	T	H	Z	E
		1	4	3	1
+		1	5	3	1
<hr/>					
		2	6	6	2

	Zt	T	H	Z	E
+					
<hr/>					

	Zt	T	H	Z	E
+					
<hr/>					

	Zt	T	H	Z	E
+					
<hr/>					

	Zt	T	H	Z	E
+					
<hr/>					

AB: 9T

1. Nimm dir die Ziffernkarten und schneide diese aus.
2. Lege die Ziffernkarten so in die Felder, dass sie zu den Ergebnissen passen.
3. Trage die Zahlen ein.

	H	Z	E
+			
	5	5	5

	H	Z	E
+			
	8	8	8

	H	Z	E
+			
	7	7	7

	H	Z	E
+			
	6	6	6

AB 9Zt

1. Nimm dir die Ziffernkarten und schneide diese aus.
2. Lege die Ziffernkarten so in die Felder, dass sie zu den Ergebnissen passen.
3. Trage die Zahlen ein.

	T	H	Z	E
+				
	1	5	8	7

	T	H	Z	E
+				
	4	7	9	8

	T	H	Z	E
+				
	9	7	8	5

	T	H	Z	E
+				
	3	8	9	7

Ziffernkärtchen für die Aufgabenblätter 9 T und 9 Zt

1	2	3	4	5	6	7	8	9
2	3	4	5	6	7	8	9	1
3	4	5	6	7	8	9	1	2
4	5	6	7	8	9	1	2	3
5	6	7	8	9	1	2	3	4
6	7	8	9	1	2	3	4	5
7	8	9	1	2	3	4	5	6
8	9	1	2	3	4	5	6	7
9	1	2	3	4	5	6	7	8
1	2	3	4	5	6	7	8	9
2	3	4	5	6	7	8	9	1

3	4	5	6	7	8	9	1	2
4	5	6	7	8	9	1	2	3
5	6	7	8	9	1	2	3	4
6	7	8	9	1	2	3	4	5
7	8	9	1	2	3	4	5	6
8	9	1	2	3	4	5	6	7
9	1	2	3	4	5	6	7	8
1	2	3	4	5	6	7	8	9
2	3	4	5	6	7	8	9	1
3	4	5	6	7	8	9	1	2
4	5	6	7	8	9	1	2	3
5	6	7	8	9	1	2	3	4