

Wie geht es weiter ?

Addition im Zahlenraum bis 100 (2)




www.mathemonsterchen.de
Bild: sarah5 by fotolia.de

Setzleiste

Rechne aus.


Wie geht es weiter ?


$$\begin{aligned} 37 + 24 &= \underline{\quad} \\ 38 + 25 &= \underline{\quad} \\ 39 + 26 &= \underline{\quad} \\ 40 + 27 &= \underline{\quad} \\ \underline{\quad} + \underline{\quad} &= \underline{\quad} \end{aligned}$$

61 63 65 67
 $41 + 28 = 69$

Rechne aus.


Wie geht es weiter ?


$$\begin{aligned} 60 + 36 &= \underline{\quad} \\ 59 + 35 &= \underline{\quad} \\ 58 + 34 &= \underline{\quad} \\ 57 + 33 &= \underline{\quad} \\ \underline{\quad} + \underline{\quad} &= \underline{\quad} \end{aligned}$$

96 94 92 90
 $56 + 32 = 88$

Rechne aus.


Wie geht es weiter ?


$$\begin{aligned} 78 + 12 &= \underline{\quad} \\ 79 + 11 &= \underline{\quad} \\ 80 + 10 &= \underline{\quad} \\ 81 + 9 &= \underline{\quad} \\ \underline{\quad} + \underline{\quad} &= \underline{\quad} \end{aligned}$$

90 90 90 90
 $82 + 8 = 90$

Rechne aus.


Wie geht es weiter ?


$$\begin{aligned} 58 + 12 &= \underline{\quad} \\ 57 + 13 &= \underline{\quad} \\ 56 + 14 &= \underline{\quad} \\ 55 + 15 &= \underline{\quad} \\ \underline{\quad} + \underline{\quad} &= \underline{\quad} \end{aligned}$$

70 70 70 70
 $54 + 16 = 70$

Rechne aus.


Wie geht es weiter ?


$$\begin{aligned} 64 + 26 &= \underline{\quad} \\ 64 + 27 &= \underline{\quad} \\ 64 + 28 &= \underline{\quad} \\ 64 + 29 &= \underline{\quad} \\ \underline{\quad} + \underline{\quad} &= \underline{\quad} \end{aligned}$$

90 91 92 93
 $64 + 30 = 94$

Rechne aus.


Wie geht es weiter ?


$$\begin{aligned} 43 + 19 &= \underline{\quad} \\ 43 + 18 &= \underline{\quad} \\ 43 + 17 &= \underline{\quad} \\ 43 + 16 &= \underline{\quad} \\ \underline{\quad} + \underline{\quad} &= \underline{\quad} \end{aligned}$$

62 61 60 59
 $43 + 15 = 58$

Rechne aus.


Wie geht es weiter ?


$$\begin{aligned} 27 + 19 &= \underline{\quad} \\ 28 + 19 &= \underline{\quad} \\ 29 + 19 &= \underline{\quad} \\ 30 + 19 &= \underline{\quad} \\ \underline{\quad} + \underline{\quad} &= \underline{\quad} \end{aligned}$$

46 47 48 49
 $31 + 19 = 50$

Rechne aus.

Wie geht es weiter ?


$$\begin{aligned} 42 + 38 &= \underline{\quad} \\ 41 + 38 &= \underline{\quad} \\ 40 + 38 &= \underline{\quad} \\ 39 + 38 &= \underline{\quad} \\ \underline{\quad} + \underline{\quad} &= \underline{\quad} \end{aligned}$$

80 79 78 77
 $38 + 38 = 76$

Rechne aus.

Wie geht es weiter ?



$$63 + 19 = \underline{\quad}$$

$$65 + 18 = \underline{\quad}$$

$$67 + 17 = \underline{\quad}$$

$$69 + 16 = \underline{\quad}$$

$$\underline{\quad} + \underline{\quad} = \underline{\quad}$$

82 83 84 85

$$71 + 15 = 86$$

Rechne aus.

Wie geht es weiter ?



$$82 + 15 = \underline{\quad}$$

$$80 + 16 = \underline{\quad}$$

$$78 + 17 = \underline{\quad}$$

$$76 + 18 = \underline{\quad}$$

$$\underline{\quad} + \underline{\quad} = \underline{\quad}$$

97 96 95 94

$$74 + 19 = 93$$

Rechne aus.

Wie geht es weiter ?



$$70 + 14 = \underline{\quad}$$

$$69 + 16 = \underline{\quad}$$

$$68 + 18 = \underline{\quad}$$

$$67 + 20 = \underline{\quad}$$

$$\underline{\quad} + \underline{\quad} = \underline{\quad}$$

84 85 86 87

$$66 + 22 = 88$$

Rechne aus.

Wie geht es weiter ?



$$55 + 25 = \underline{\quad}$$

$$56 + 23 = \underline{\quad}$$

$$57 + 21 = \underline{\quad}$$

$$58 + 19 = \underline{\quad}$$

$$\underline{\quad} + \underline{\quad} = \underline{\quad}$$

80 79 78 77

$$59 + 17 = 76$$

Rechne aus.

Wie geht es weiter ?



$$39 + 24 = \underline{\quad}$$

$$39 + 26 = \underline{\quad}$$

$$39 + 28 = \underline{\quad}$$

$$39 + 30 = \underline{\quad}$$

$$\underline{\quad} + \underline{\quad} = \underline{\quad}$$

63 65 67 69

$$39 + 32 = 71$$

Rechne aus.

Wie geht es weiter ?



$$51 + 40 = \underline{\quad}$$

$$51 + 38 = \underline{\quad}$$

$$51 + 36 = \underline{\quad}$$

$$51 + 34 = \underline{\quad}$$

$$\underline{\quad} + \underline{\quad} = \underline{\quad}$$

91 89 87 85

$$51 + 32 = 83$$

Rechne aus.

Wie geht es weiter ?



$$23 + 69 = \underline{\quad}$$

$$25 + 69 = \underline{\quad}$$

$$27 + 69 = \underline{\quad}$$

$$29 + 69 = \underline{\quad}$$

$$\underline{\quad} + \underline{\quad} = \underline{\quad}$$

92 94 96 98

$$31 + 69 = 100$$

Rechne aus.

Wie geht es weiter ?



$$30 + 58 = \underline{\quad}$$

$$28 + 58 = \underline{\quad}$$

$$26 + 58 = \underline{\quad}$$

$$24 + 58 = \underline{\quad}$$

$$\underline{\quad} + \underline{\quad} = \underline{\quad}$$

88 86 84 82

$$22 + 58 = 80$$

Rechne aus.

Wie geht es weiter ?



Setzleiste

$$\begin{array}{cccc} 61 & 63 & 65 & 67 \\ 41 + 28 = 69 \end{array}$$

$$\begin{array}{cccc} 96 & 94 & 92 & 90 \\ 56 + 32 = 88 \end{array}$$

$$\begin{array}{cccc} 90 & 90 & 90 & 90 \\ 82 + 8 = 90 \end{array}$$

$$\begin{array}{cccc} 70 & 70 & 70 & 70 \\ 54 + 16 = 70 \end{array}$$

$$\begin{array}{cccc} 90 & 91 & 92 & 93 \\ 64 + 30 = 94 \end{array}$$

$$\begin{array}{cccc} 62 & 61 & 60 & 59 \\ 43 + 15 = 58 \end{array}$$

$$\begin{array}{cccc} 46 & 47 & 48 & 49 \\ 31 + 19 = 50 \end{array}$$

$$\begin{array}{cccc} 80 & 79 & 78 & 77 \\ 38 + 38 = 76 \end{array}$$

$$\begin{array}{cccc} 82 & 83 & 84 & 85 \\ 71 + 15 = 86 \end{array}$$

$$\begin{array}{cccc} 97 & 96 & 95 & 94 \\ 74 + 19 = 93 \end{array}$$

$$\begin{array}{cccc} 84 & 85 & 86 & 87 \\ 66 + 22 = 88 \end{array}$$

$$\begin{array}{cccc} 80 & 79 & 78 & 77 \\ 59 + 17 = 76 \end{array}$$

$$\begin{array}{cccc} 63 & 65 & 67 & 69 \\ 39 + 32 = 71 \end{array}$$

$$\begin{array}{cccc} 91 & 89 & 87 & 85 \\ 51 + 32 = 83 \end{array}$$

$$\begin{array}{cccc} 92 & 94 & 96 & 98 \\ 31 + 69 = 100 \end{array}$$

$$\begin{array}{cccc} 88 & 86 & 84 & 82 \\ 22 + 58 = 80 \end{array}$$